

# MODELO PRUEBA DE ACCESO A 4ºEE.EE


## MODEL PROVA D'ACCÉS

Especialidad/Especialitat:


Nombre/Nom:

Apellidos/Cognoms:

1. Clasifica los siguientes intervalos melódicos:  
Classifica els següents intervals melòdics:





2. Clasifica los siguientes intervalos armónicos:  
Classifica els següents intervals harmònics:




3. Escribe las siguientes escalas: Sol m melódica y armónica de Si m.

Escriu les següents escales: Sol m melòdica i harmònica de Si m.




4. Escribe la armadura y los tonos vecinos de:  
Escriu l'armadura i els tons veïns:

Re m




La M




Escribe la armadura y los grados tonales de:  
Escriu l'armadura i els graus tonals de:

Sol m



Si M



5. Escribe las unidades de tiempo, compás o subdivisión de los siguientes compases:  
Escriu les unitats de temps, compàs o subdivisió dels següents compassos:

Unidad de compás/ unitat de compàs del 6/8 :

Unidad de tiempo/ unitat de temps del 2/8:

Unidad de subdivisión/ unitat de subdivisió del 3/2:

Unidad de compás/ unitat de compàs del 4/4: