

**MODELO PRUEBA DE ACCESO A 3ºEE.EE**  
**MODEL PROVA D'ACCÉS A 3ºEE.EE**

Fecha / Data:


Nombre / Nom:

Especialidad / Especialitat:

Apellidos / Cognoms:



1. Clasifica los siguientes intervallos:

Classifica els següents intervals:



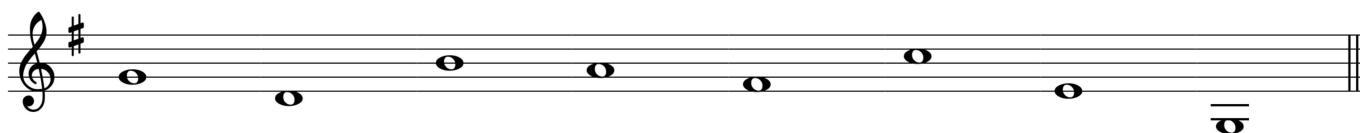
2. Escribe las siguientes escalas: Mi m y Fa M:

Escriu les següents escales: Mi m i Fa M:



3. Escribe debajo de cada nota los grados a los que corresponden las siguientes notas de la escala de Sol M:


Escriu sota de cada nota els graus als quals corresponen les notes de l'escala de Sol M:




4. Escribe la armadura y la nota correspondiente:

Escriu l'armadura i la nota que correspon:


Sensible de La m




Dominante de Sol M



Mediante de Fa M



Subdominante de Re m



5. Escribe las unidades de tiempo, compás o subdivisión de los siguientes compases:

Escriu les unitats de temps, compàs o subdivisió dels següents compassos:

Unidad de compás/ unitat de compàs del 12/8:

Unidad de tiempo/ unitat de temps del 9/8:

Unidad de subdivisión/ unitat de subdivisió del 3/4:

Unidad de compás/ unitat de compàs del 6/8: