

**MODELO PRUEBA DE ACCESO A 1ºEE.PP**  
**MODEL PROVA D'ACCÉS**

Especialidad/Especialitat:

Nombre/Nom:



Apellidos/Cognoms:

1. Clasifica los siguientes intervallos:  
Classifica els següents intervals:




2. Escribe las siguientes escalas: Hispano-árabe de Re M y oriental de Si m.

Escriu les següents escales: Hispano-àrab de Re M i oriental de Si m.



3. Escribe la nota que figura en el ejemplo utilizando las siguientes claves sin que varíe su altura:

Escriu la nota que figura en l'exemple utilitzant les següents claus sense que varie la seua altura:



Escribe la nota según el índice franco-belga y la clave más adecuada:

Escriu la nota segons l'índex franco-belga i la clau més adequada:


Mi b 2

Sol 3

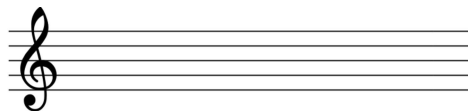
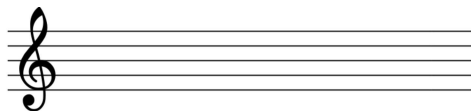
Do 1

La -1

Re 5





4. Escribe la armadura y los tonos vecinos de Fa # m y La b M:  
Escriu l'armadura i els tons veïns de Fa # m i La b M de :



Escribe la armadura y los grados tonales de :  
Escriu l'armadura i els graus tonals de :

Sol m

Si M



5. Escribe las unidades de tiempo, compás o subdivisión de los siguientes compases:  
Escriu les unitats de temps, compàs o subdivisió dels següents compassos:

Unidad de compás/ unitat de compàs del 6/8 :

Unidad de tiempo/ unitat de temps del 2/2:

Unidad de subdivisión/ unitat de subdivisió del 3/8:

Unidad de compás/ unitat de compàs del 4/4: