

PRUEBA DE ACCESO

PROVA D'ACCÉS

Fecha / Data:

Nombre / Nom:

Especialidad / Especialitat:

Apellidos / Cognoms:



1. Clasifica los siguientes intervallos:

Classifica els següents intervals:



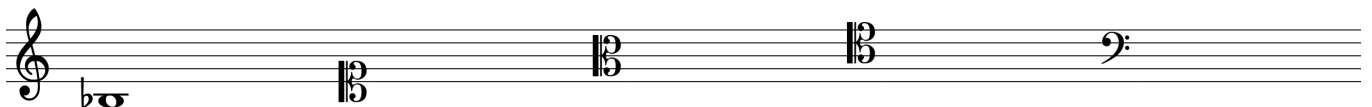
2. Escribe las siguientes escalas: Sol m melódica y oriental de Mi m

Escriu les següents escales: Sol m melòdica i oriental de Mi m



3. Escribe la nota que figura en el ejemplo utilizando las siguientes claves sin que varíe su altura:

Escriu la nota que figura en l'exemple utilitzant les següents claus sense que varíe la seua altura:



Escribe la nota según el índice franco-belga y la clave más adecuada:
Escriu la nota segons l'índex franco-belga i la clau més adequada:

sol 4


sib -1

re 5


fa# 2



4. Escribe la armadura y los tonos vecinos de La M:
Escriu l'armadura i els tons veïns de La M:



Escribe la armadura y los grados tonales de Si m:
Escriu l'armadura i els graus tonals de Si m:



5. Escribe las unidades de tiempo, compás o subdivisión de los siguientes compases:

Escriu les unitats de temps, compàs o subdivisió dels següents compassos:

Unidad de compás/ unitat de compàs del 2/8:

Unidad de tiempo/ unitat de temps del 4/2:

Unidad de subdivisión/ unitat de subdivisió del 12/8:

Unidad de compás/ unitat de compàs del 6/8: